

★先生方へ～解答欄の ①～④は、問題結果記録の校同番字に対応しています。

1 次の問題に答えましょう。

(1) 数字で書きましょう。

① 三百十四万五千六百八十六

② 1000万を5こ、100万を8こ、1万を9こ合わせた数

(2) 92000はどんな数ですか。 にあてはまる数を書きましょう。

① と2000を合わせた数

② 1000を こ集めた数

2 次の筆算で、 にあてはまる数を書きましょう。

$$\begin{array}{r} 58 \\ \times 9 \\ \hline \end{array}$$

$$\begin{array}{r} 72 \dots\dots \square \times 9 \\ 450 \dots\dots \square \times 9 \\ \hline 522 \end{array}$$

※ 次のページにも、問題があります。

3

ひろみさんたちは、バスに乗って図書館に行きます。
下の表は、乗車するバスでの時刻表の一部です。

時	図書館行きバス 時刻表			
8	20	50		
9	20	35	50	
10	05	20	35	50
11	05	20	35	50

朝いちばん早いバスは、午前8時20分です。その次のバスは、午前8時50分です。

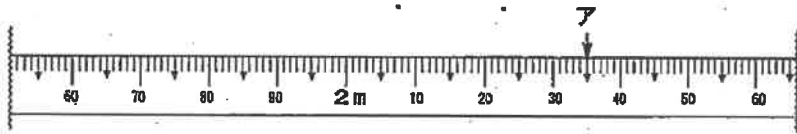


(1) ひろみさんの家からバスまで歩いて25分かかります。午前9時50分のバスに乗るには、家を午前何時何分までに出発すればよいでしょうか。

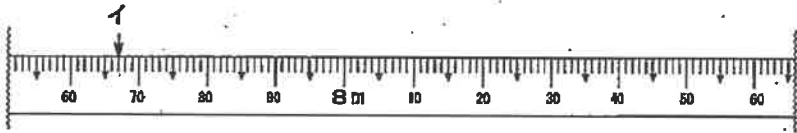
(2) ひろみさんたちは、このバスで午前10時15分に集合することになりました。図書館までは、バスで20分かかります。午前11時までに、図書館に着くためには、午前何時何分に発車する予定のバスに乗ればよいですか。その時刻をすべて書きましょう。

※ 次のページにも、問題があります。

4 アとイのめもりが表す長さを書きましょう。




ア



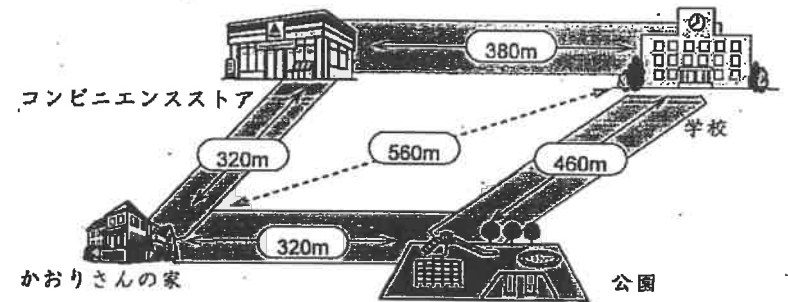
イ

5 下の図のように、直径が20cmの円の中に、同じ大きさの円が2つ入っています。小さい円の半径は何cmでしょうか。



※次のページにも、問題があります。

6 下の地図を見て、問題に答えましょう。



かおりさんの家から公園を通過して学校に行く道のりと、コンビニエンスストアを通過して学校に行く道のりでは、どちらが短いでしょうか。どちらが短いかを答え、そのように考えたわけを、言葉や数、式を使って答えましょう。

かおりさんの家から を通過して学校に行く道のりのほうが短い。

わけ：